



Wer regelt den Straßenverkehr?





Egal, was Ampeln oder Verkehrsschilder anzeigen, wenn ein Polizist oder eine Polizistin den Verkehr regelt, haben die anderen Zeichen keine Bedeutung!


Male den Verkehrspolizisten (als Strichmännchen) neben die Verhaltensregel!

Brust und Rücken ==> Bremse drücken!	
Siehst du die Hosennaht ==> hast du freie Fahrt!	
Achtung! Warte auf das neue Zeichen!	

Wenn du an einer Kreuzung Ampeln und Schilder siehst, regeln die Ampeln den Verkehr. Sind die Ampeln dunkel oder blinkt das gelbe Licht, musst du den Regeln der Schilder folgen.

Welches Licht (rot, gelb, grün oder rot-gelb) zeigt die Ampel? Male in jede Ampel die richtige Farbe/n.

Der Verkehr ist freigegeben.	Vor der Kreuzung auf das nächste Zeichen warten.	Halt!	Auf die Weiterfahrt vorbereiten.
			
<p>Beim Abbiegen musst du den Gegenverkehr sowie Fußgänger und Radfahrer durchlassen.</p>	<p>Wenn du schon auf der Kreuzung bist, weil die Ampel gerade auf diese Farbe umgesprungen ist und du nicht mehr warten kannst, verlasse die Kreuzung zügig.</p>	<p>Wenn neben dieser Ampelfarbe ein grüner Pfeil (z.B. nach rechts) leuchtet, hältst du an und kannst danach rechts abbiegen, wenn du keinen anderen Verkehrsteilnehmer gefährdest.</p>	<p>Wenn du auf eine Ampel mit diesem Licht zufährst, bereite dich auf die Weiterfahrt vor.</p>



Sind die Ampeln außer Betrieb oder wenn es an einer Kreuzung gar keine Ampeln gibt, regeln Schilder den Verkehr.

Du weißt, es gibt viele verschiedene Verkehrsschilder. In der nächsten Aufgabe geht es um die Schilder, die die Vorfahrt oder den Vorrang regeln. Wir nennen sie Vorfahrt regelnde Zeichen.

Verbinde das Schild mit seinem Namen.



Vorfahrtstraße

Kreuzung
gleichrangiger
Straßen

Halt.
Vorfahrt gewähren.

Vorfahrt gewähren. Vorfahrt



Vorrang vor dem
Gegenverkehr.
(Hier habe ich Vorrang.)

Zusatzschild:
Abknickende
Vorfahrtstraße.
(Hier muss ich Vorfahrt
gewähren.)

Schienefahrzeuge
haben hier Vorrang

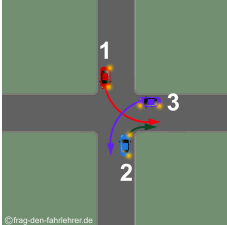
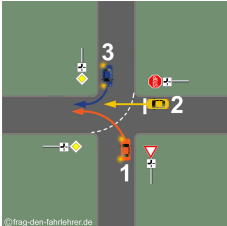
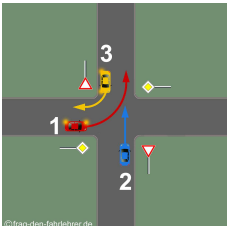
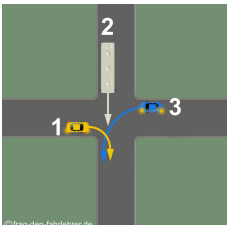
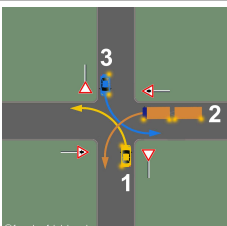
Zusatzschild:
Abknickende
Vorfahrtstraße
(Hier habe ich Vorfahrt.)

Vorrang vor dem
Gegenverkehr.
(Hier muss ich dem
Gegenverkehr den
Vorrang geben.)



Gibt es an einer Kreuzung weder Ampeln noch Schilder gilt die Regel „rechts vor links“.

Schau dir die Situationen an den Kreuzungen genau an und entscheide, in welcher Reihenfolge die Fahrzeuge fahren dürfen. Kreuze die richtige Antwort an.

	<p>In welcher Reihenfolge wird gefahren?</p> <p><input type="checkbox"/> 1 – 2/3</p> <p><input type="checkbox"/> 2 – 1 – 3</p> <p><input type="checkbox"/> 1 – 3 – 2</p>
	<p>In welcher Reihenfolge wird gefahren?</p> <p><input type="checkbox"/> 3 – 1 – 2</p> <p><input type="checkbox"/> 3 – 2 – 1</p> <p><input type="checkbox"/> 2 – 1 – 3</p>
	<p>In welcher Reihenfolge wird gefahren?</p> <p><input type="checkbox"/> 1/3 – 2</p> <p><input type="checkbox"/> 1 – 2 – 3</p> <p><input type="checkbox"/> 3 – 2 – 1</p>
	<p>In welcher Reihenfolge wird gefahren?</p> <p><input type="checkbox"/> 3 – 2 – 1</p> <p><input type="checkbox"/> 1 – 2 – 3</p> <p><input type="checkbox"/> 2 – 1 – 3</p>
	<p>In welcher Reihenfolge wird gefahren?</p> <p><input type="checkbox"/> 3 – 2 – 1</p> <p><input type="checkbox"/> 1 – 2 – 3</p> <p><input type="checkbox"/> 2 – 1/3</p>

Wichtiger Hinweis: Die verwendeten Bilder auf diesem Arbeitsblatt unterliegen dem Copyright. Ich bedanke mich bei Herrn Christian Schwekendiek für die freundliche Genehmigung.